

PROBĂ DE EVALUARE INIȚIALĂ
Matematică, clasa a III a

1. Scrie:

a) numerele naturale de la 297 la 307. Încercuiește numerele impare.

_____, _____, _____, _____, _____, _____, _____, _____, _____;

b) numerele cuprinse între 789 și 796. Încercuiește numerele pare.

_____, _____, _____, _____, _____, _____, _____, _____;

c) numerele care se pot forma cu ajutorul cifrelor 2, 4, 5,


_____, _____, _____, _____, _____, _____;

2. Continuă și completează frunzulițele cu încă 6 numere respectând fiecare regulă dată:

122, 133, 

801, 701, 

3. Calculează și colorează cum vrei tu, toate merele care conțin rezultate numere pare:


Apple 1: $\begin{array}{r} 234+ \\ 134 \end{array}$
Apple 2: $\begin{array}{r} 198- \\ 75 \end{array}$
Apple 3: $\begin{array}{r} 678+ \\ 21 \end{array}$
Apple 4: $\begin{array}{r} 566+ \\ 42 \end{array}$
Apple 5: $\begin{array}{r} 212+ \\ 75 \end{array}$
Apple 6: $\begin{array}{r} 542- \\ 32 \end{array}$

4. Află numărul cu 497 mai mic decât suma numerelor 578 și 397.

.....

5. Calculează și fă proba:

$134 + 203 =$

$450 - 104 =$

$3 \times 7 =$

.....

.....

.....

.....

.....

.....

.....

.....

.....

.....

.....

.....

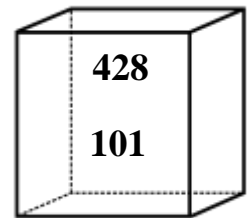
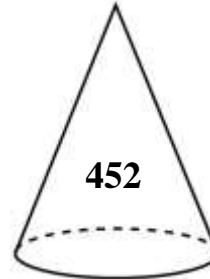
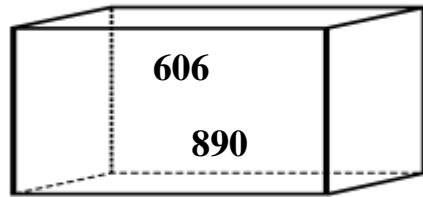
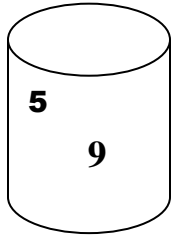
6. Scrie adunările repetate ca înmulțiri:

$$7 + 7 + 7 + 7 + 7 =$$

$$15 + 15 + 15 + 15 =$$

$$9 + 9 + 9 + 9 + 9 + 9 + 9 =$$

7. Scrie denumirea fiecărui corp și rezolvă sarcinile:



.....







- Calculează produsul celor mai mici 2 numere scrise în interiorul corpurilor geometrice.....
- Găsește cel mai mare număr scris în interiorul corpurilor geometrice și scrie vecinii acestui număr
- Găsește numărul scris în interiorul corpurilor geometrice care are cifra unităților egală cu dublul cifrei sutelor. Scrie acest număr

8. Într-un parc s-au plantat 165 de zambile. Panseluțe s-au plantat cu 189 mai multe decât zambile, iar trandafiri cu 139 mai puțini decât panseluțe. Câte flori s-au plantat în parc?

.....

9. Calculează cât a cheltuit fiecare copil.

Colorează caseta cu numele copilului care a cheltuit cel mai mult.

OBIECTE							TOTAL
COPII	9 lei	18 lei	56 lei	37 lei	19 lei	33 lei	
MIRELA	X	X				X	
DORU	X			X	X		
XENIA			X			X	